

Nom

Prénom

Nom de famille

Journée du 24 Mars 2020



Dictée

Ecoute attentivement le fichier audio envoyé sur WhatsApp, puis écris la dictée dans le cadre ci-dessous.

Ecoute attentivement le fichier audio envoyé sur WhatsApp, puis écris la dictée dans le cadre ci-dessous.

dictée

Grammaire

Analyse les mots de la phrase : Le père de mon ami est arrivé.

père

réponse

de

réponse

Le

réponse

Conjugaison

Lis attentivement chaque phrase. Trouve les verbes puis recopie les phrases suivantes en conjuguant chaque verbe au passé composé.

mon

réponse

Annaëlle et Wismerlin sont gâtées pour leur anniversaire.

André voit une étoile filante dans le ciel et la prend en photo.

O'mani va courir au stade et il gagne la course.

Mhirlinda mange au restaurant avec sa cousine, elles choisissent un hamburger.

Mon mari et moi ne bougeons pas de la maison depuis une semaine.

Maliya fait une surprise à sa mère, elle achète un joli bouquet de fleurs.

Jemuel est puni car il chante pendant la classe.

Digmaris comprend l'exercice mais Franck n'écoute pas la consigne.

Shanice finit son exercice très vite car elle apprend sa leçon.

Charlyah va faire des courses : elle achète un cahier neuf.

Samyra et Jecika s'amuseent cet après-midi car elles font leur travail le matin.

Vous ne vous concentrez pas ! Vous ne réussirez pas !

Nous allons au cirque avec toute l'école. Le spectacle est magnifique !

Claudine promet qu'elle apprend ses leçons tous les soirs.

Eraldi entre encore dans la classe en retard !

La directrice entre dans la classe, elle punit les élèves qui font des bêtises.

Amalya tombe dans la cour : son genou saigne et elle pleure.

Ludoïck travaille sérieusement, il a de bons résultats.

La maîtresse félicite les élèves car ils réussissent cet exercice.

Lexique

Cherche dans le dictionnaire la définition des mots indiqués. Recopie la et invente une phrase en utilisant ce mot.

~~Type a question~~ préhistoire

phrase

schéma

définition

phrase

est arrivé **attention : cette question fait partie de l'exercice de grammaire**

réponse

phrase

Orthographe

Choisis dans la liste le mot qui convient pour remplacer l'étoile ★

Cette classe est difficile, ★ enfants n'écoutent rien

Ils ★ toujours en train de bavarder.

Ils ★ toujours toujours quelque chose à dire.

La maîtresse ★ en colère.

Elle se demande si elle doit les punir 🌟 appeler leurs parents.

🌟 garçon, en revanche écoute toujours les consignes.

Il 🌟 compris qu'il fallait écouter.

Mais 🌟 fille à côté de lui n'écoute rien.

🌟 table est toujours en désordre.

🌟 cahiers sont mal tenus.

🌟 cartable est un vrai bazar. **ne pas répondre à cette question**

🌟 n'y retrouve plus rien.

Elle chante 🌟 elle danse pendant la classe.

Elle 🌟 balance sur sa chaise.

Elle parle mal 🌟 la maîtresse.

Elle parle mal 🌟 la maîtresse. **ne pas répondre à cette question**

"Assis toi 🌟 et ne bouge plus" dit la maîtresse.

" 🌟 commence à m'énerver !"

"Tu 🎯 que tu dois te tenir tranquille mais tu n'en fais qu'à ta tête !" **ne pas répondre à cette question**

"Tu 🎯 bien cherché, tu seras punie !"

La maîtresse 🎯 vraiment fâchée cette fois !

Lecture-fluence

Lis le texte de fluence de la semaine (mail) et note ici le temps réalisé.

Type a question

Temps

Ceintures de problèmes


Trouve la solution à ce problème en expliquant ta démarche (opération, résultat, phrase réponse)

Un couturier fabrique chaque mois 220 manteaux et 145 vestes. Ce mois-ci, il a vendu 92 vêtements en France et 235 à l'étranger. Quel est le nombre de vêtements invendus au cours de ce mois ?

Réponse


Numération

Quelle fraction correspond à la partie **jaune** ?



réponse

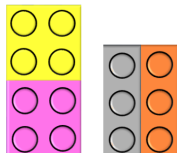
Quelle fraction correspond à la partie **grise** ?




réponse

Peut-on dire que la fraction **jaune** est égale à la fraction **grise** ?

Explique pourquoi.

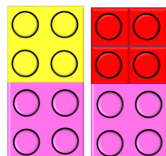


Quelle fraction correspond à la partie **rouge** ?




réponse

Peut-on dire que la fraction **jaune** est égale à la fraction **rouge** ? Explique pourquoi.




réponse

Quelle fraction correspond à la partie orange ?



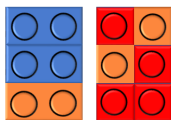
réponse

Quelle fraction correspond à la partie rouge ?




réponse

Peut-on dire que ces deux fractions sont égales ? Explique pourquoi



réponse


Quelle fraction correspond à la partie bleue ?



réponse

Quelle fraction correspond à la partie rouge ?

-



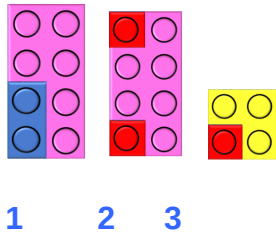
réponse

Quelle fraction correspond à la partie rouge ?



réponse

Quelles sont les fractions égales ?



Calculs

Sur ton cahier bleu, écris la date, pose et calcule le résultat des opérations suivantes. Ecris uniquement le résultat dans la case ci-dessous.

$$809 \times 86 =$$

réponse

$$7\,214 \times 37 =$$

réponse

$$? \, 2?5 + 5 \, ?09 = 6 \, 53?$$

réponse

$$? \, 3?4 - ?0? = 6 \, 146$$

réponse

$$14\text{h } 48\text{min} + 9\text{h } 12\text{min} =$$

réponse

17h 16min - 7h 48min =

réponse

Tables de multiplication

Clique sur le lien : <https://www.tablesdemultiplication.fr/test-de-vitesse/>

Clique sur "**toutes les tables**" et entraîne toi pendant 15 minutes.

Note ton meilleur score.

meilleur score

Lecture suivie : Le grand chaperon jaune

Chapitre 1: une discussion originale

Vous connaissez l'histoire du petit chaperon rouge ? Eh bien sachez qu'une histoire presque similaire s'est déroulée, il y a quelques temps.

Celle qui ressemblait au petit chaperon rouge s'appelait en fait Mélanie. Sa patronne, qu'elle considérait comme une mère, lui demanda un jour d'aller porter à sa propre mère un pot de soupe de sa composition pour la soigner.

- Evite de passer par la forêt car.....

- Oui je sais, le petit fils du loup qui a mangé le petit chaperon rouge veut se venger car son grand- père est mort, tué par les chasseurs. Ne vous inquiétez pas, j'ai plus d'un tour dans mon sac.

- Je te prépare tout ça et tu iras directement chez ma pauvre mère. Je n'ai jamais le temps d'aller la voir et elle s'ennuie.

- Je vais lui changer les idées en la faisant rire. J'imité très bien les grands comiques de renom.

- Oui, oui, oui comme tu veux, répondit sa patronne excédée par le flux de parole anormal qu'avait cette petite, qui était très grande d'ailleurs, plus d'un

mètre quatre-vingt- dix.

Et voilà Mélanie portant manteau et chapeau de couleur jaune, (elle

adorait cette couleur, on aurait pu l'appeler le petit chaperon jaune mais vu sa taille...), panier à la main, qui traverse la forêt confiante en ses capacités

à se défendre si elle rencontre le loup.

que de nos jours, on ne peut plus manger les humains, il y a tellement de fast- food bien meilleurs, je lui donnerai l'adresse de macOnald..... Un peu

de moral ne lui ferait pas de mal...

C'est à cet instant même qu'il fit son apparition, prêt à lui sauter dessus.

Quand on parle du loup, on en voit la queue se dit-elle. - Stooooop, lui dit-elle. Que fais-tu ?

Le loup un peu surpris lui répondit :

- Ben, je suis un loup, je suis censé te manger, non ?

A quel conte ressemble le début de cette histoire ?

Quelle est la mission de Mélanie ?

De qui doit-elle avoir peur et pourquoi ?

Quel est le plus grand défaut de Mélanie ?

Que compte faire Mélanie pour raisonner le loup ?

Que compte faire Mélanie pour raisonner le loup ?

Complète : Mélanie adore la couleur

Complète : La différence entre Mélanie et le chaperon rouge est

Par un ou plusieurs adjectifs, décris le caractère de Mélanie.

~~Par un ou plusieurs adjectifs, décris le caractère de Mélanie.~~ **Décris le caractère du loup.**

A quel type de nourriture correspond le fast food :

"Quand on parle du loup on en voit la queue". Dans quelles circonstances peut-on utiliser cette expression ? explique et donne un exemple vécu si possible.

ami attention : cette question fait partie de l'exercice de grammaire

réponse

attention : cette question fait partie de l'exercice de conjugaison
Manoa va au cinéma avec sa soeur, ils sortent de la séance à 20h.

préhistoire attention : cette question fait partie de l'exercice de lexique

définition

losange attention : cette question fait partie de l'exercice de lexique

définition