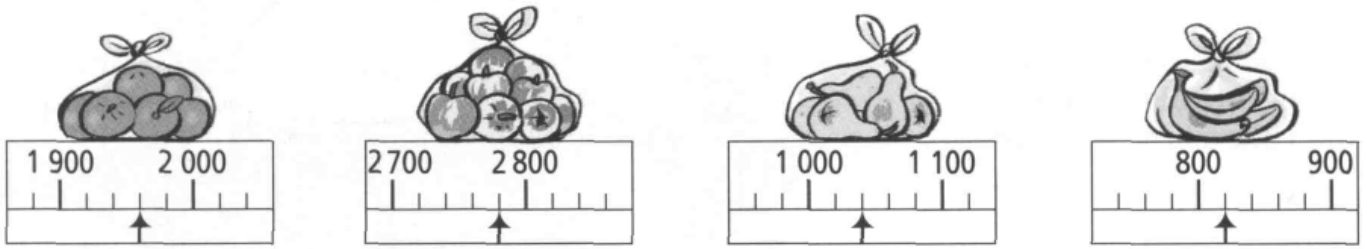


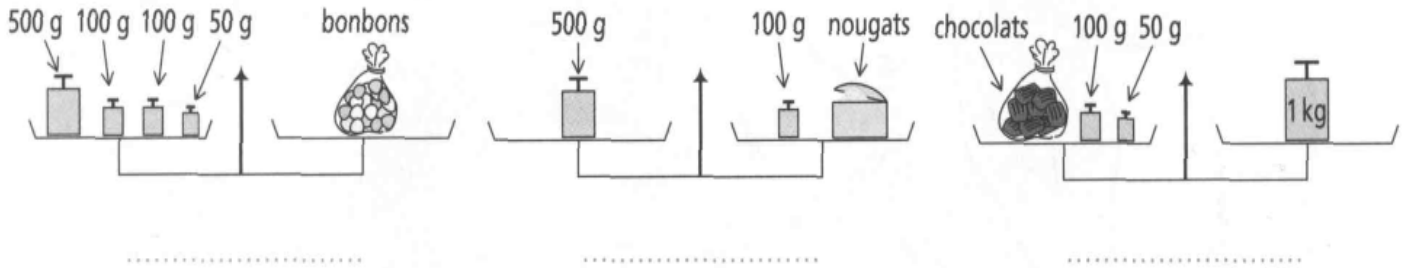
Prénom :

Date :


Exercice 1 : Indique la masse de chaque sac de fruits :



Exercice 2 : Trouve la masse de chaque objet :




Exercice 3 : Quels poids faut-il mettre sur le deuxième plateau pour équilibrer la balance ?



Exercice 4 : Leslie, Ninon et le chat :

Leslie pèse 25 kg. Quand elle se pèse avec Ninon, la balance marque 38 kg.
 Lorsque Ninon se pèse avec le chat, la balance marque 16 kg.

Leslie pèse :
 Ninon pèse :
 Le chat pèse :
 Tous les 3, ils pèsent :



Exercice 5 :

1 kilogramme (kg), c'est 1 000 grammes (g).

Exprime en grammes (g)

1 kg 237 g =

5 kg =

Exprime en kilogrammes (kg) et grammes (g).

1 750 g =

1 020 g =