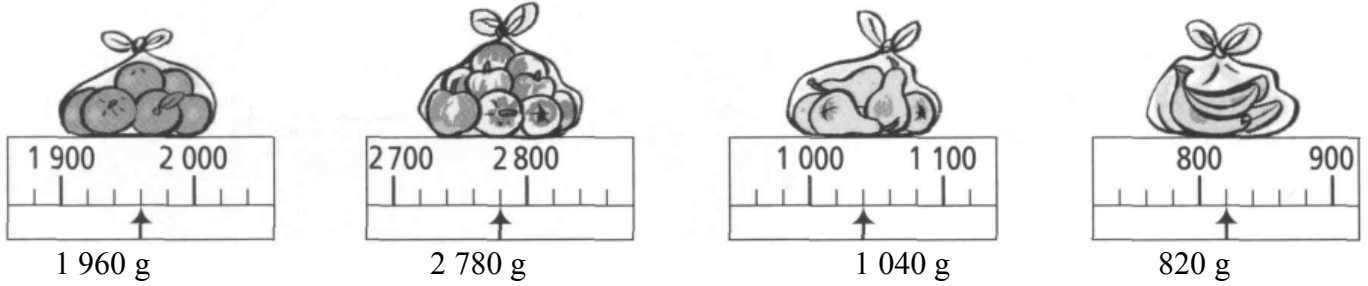
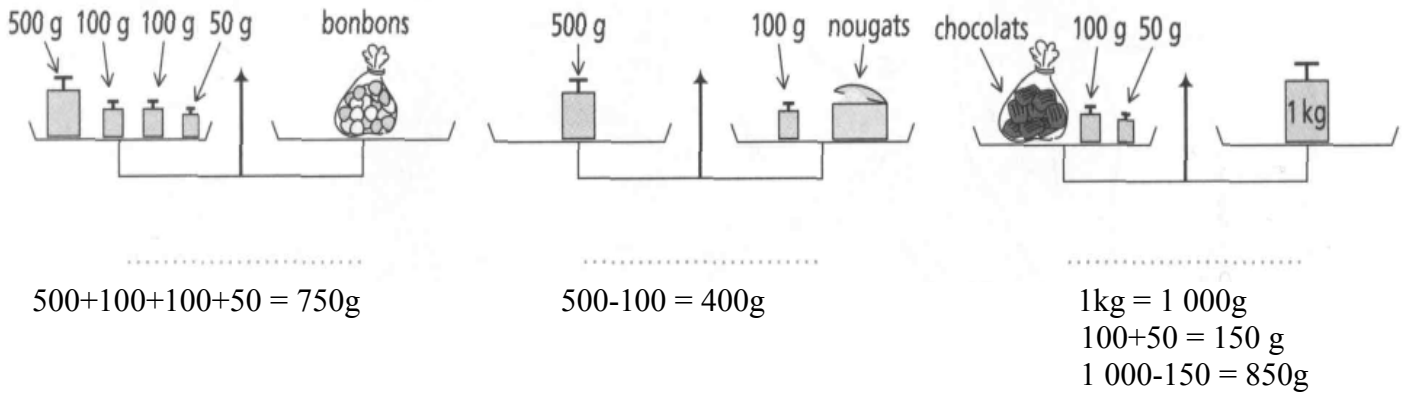


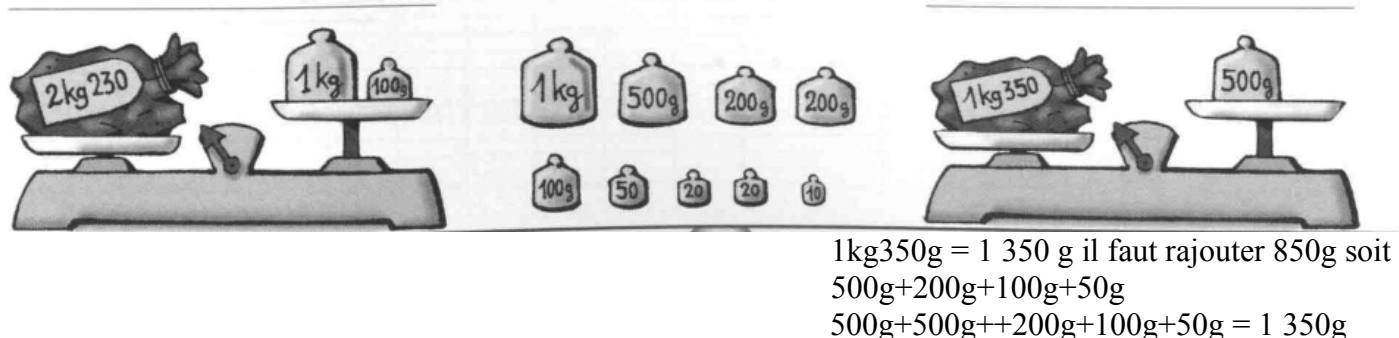
Exercice 1 : Indique la masse de chaque sac de fruits : les graduations sont de 20g en 20g



Exercice 2 : Trouve la masse de chaque objet :



Exercice 3 : Quels poids faut-il mettre sur le deuxième plateau pour équilibrer la balance ?



Exercice 4 : Leslie, Ninon et le chat :

Leslie pèse 25 kg. Quand elle se pèse avec Ninon, la balance marque 38 kg.
 Lorsque Ninon se pèse avec le chat, la balance marque 16 kg.

Leslie pèse :25 kg
 Ninon pèse : 38-25 = 13 kg
 Le chat pèse : 16-13 = 3 kg
 Tous les 3, ils pèsent : ... 25+13+3 = 41 kg

