

Livret de travail - CP C

Semaine du 30 mars 2020

Maths

1. Remplis le tableau d'addition.

+	10	11	12	13	14	15	16	17
0								
2								
4								
6								
8								
10								

2. Les doubles.

Calcule les additions.

$2 + 2 = \underline{\quad}$

$9 + 9 = \underline{\quad}$

$6 + 6 = \underline{\quad}$

$6 + 6 = \underline{\quad}$

$6 + 6 = \underline{\quad}$

$0 + 0 = \underline{\quad}$

$8 + 8 = \underline{\quad}$

$1 + 1 = \underline{\quad}$

$5 + 5 = \underline{\quad}$

$4 + 4 = \underline{\quad}$

$2 + 2 = \underline{\quad}$

$10 + 10 = \underline{\quad}$

$6 + 6 = \underline{\quad}$

$0 + 0 = \underline{\quad}$

$2 + 2 = \underline{\quad}$

$5 + 5 = \underline{\quad}$

$4 + 4 = \underline{\quad}$

$6 + 6 = \underline{\quad}$

$6 + 6 = \underline{\quad}$

$9 + 9 = \underline{\quad}$

3. Calculs à trou (Niveau expert) :

$14 + \underline{\quad} = 27$	$\underline{\quad} + 21 = 38$	$\underline{\quad} + 8 = 15$
$\underline{\quad} + 5 = 14$	$\underline{\quad} + 14 = 16$	$6 + \underline{\quad} = 19$
$9 + \underline{\quad} = 25$	$7 + \underline{\quad} = 20$	$1 + \underline{\quad} = 16$
$6 + \underline{\quad} = 6$	$15 + \underline{\quad} = 35$	$\underline{\quad} + 24 = 33$
$\underline{\quad} + 5 = 9$	$3 + \underline{\quad} = 4$	$5 + \underline{\quad} = 23$
$20 + \underline{\quad} = 43$	$16 + \underline{\quad} = 26$	$11 + \underline{\quad} = 31$
$7 + \underline{\quad} = 25$	$14 + \underline{\quad} = 27$	$\underline{\quad} + 21 = 38$
$\underline{\quad} + 5 = 11$	$\underline{\quad} + 5 = 14$	$\underline{\quad} + 14 = 16$
$\underline{\quad} + 8 = 15$	$9 + \underline{\quad} = 25$	$7 + \underline{\quad} = 20$
$6 + \underline{\quad} = 19$	$6 + \underline{\quad} = 6$	$15 + \underline{\quad} = 35$
$1 + \underline{\quad} = 16$	$\underline{\quad} + 5 = 9$	$3 + \underline{\quad} = 41$
$\underline{\quad} + 24 = 33$	$20 + \underline{\quad} = 43$	$6 + \underline{\quad} = 26$
$5 + \underline{\quad} = 23$	$7 + \underline{\quad} = 25$	$\underline{\quad} + 5 = 11$

4. Complète les additions (compléments à 10)

$10 = \dots + 8$	$10 = \dots + 9$	$10 = 1 + \dots$	$10 = \dots + 3$
$10 = \dots + 0$	$10 = 9 + \dots$	$10 = 0 + \dots$	$10 = \dots + 9$
$10 = \dots + 5$	$10 = \dots + 9$	$10 = 7 + \dots$	$10 = \dots + 9$
$10 = \dots + 10$	$10 = \dots + 7$	$10 = 5 + \dots$	$10 = \dots + 4$
$10 = \dots + 9$	$10 = 6 + \dots$	$10 = \dots + 2$	$10 = 8 + \dots$
$10 = 0 + \dots$	$10 = 4 + \dots$	$10 = 10 + \dots$	$10 = 0 + \dots$

5. Complète les suites de nombres.

- de 1 en 1 :

3	4								
---	---	--	--	--	--	--	--	--	--

12	13								
----	----	--	--	--	--	--	--	--	--

- de 2 en 2 :

6	8								
---	---	--	--	--	--	--	--	--	--

15	17								
----	----	--	--	--	--	--	--	--	--

20	22								
----	----	--	--	--	--	--	--	--	--

- de 3 en 3 :

5	8								
---	---	--	--	--	--	--	--	--	--

19	22								
----	----	--	--	--	--	--	--	--	--

- de 5 en 5 :

5	10								
---	----	--	--	--	--	--	--	--	--

14	19								
----	----	--	--	--	--	--	--	--	--


6. Lis puis écris en chiffres :


Exemple : dix → 10

neuf :	treize :	cinq :	trois :
douze :	dix-sept :	quatre :	dix-neuf :
six :	dix-huit :	vingt :	onze :
vingt-et-un :		vingt-cinq :	
vingt-trois :		trente-huit :	


Français

Lecture rapide


al - il - ul - ol - el - yl - ar - ir - or - ur - er - af - if - of - uf - fa - fi - fo - fu - fe - fy				
	Essai 1	Essai 2	Essai 3	Essai 4
Temps en secondes				







“IN in” comme dans lapin

lin - fin - vin - pin - chin - rin - din - sin - zin - jin - nin - min lapin - malin - matin - gamin - chemin - sapin - satin - pantin - boudin				
	Essai 1	Essai 2	Essai 3	Essai 4
Temps en secondes				



Le lapin est malin.
Le lapin est malin et rapide.
Le lapin malin et rapide est devant le sapin.
Le lapin malin et rapide est devant le sapin du jardin.

	Essai 1	Essai 2	Essai 3	Essai 4
Temps en secondes				

1. Relie l'image au bon mot.

	la maison	
	le jardin	
	la mayonnaise	
	un renard	
	un canard	
	un regard	

2. Relie l'image à la bonne phrase.

	Le chien aboie dans le jardin.
	L'avion vole dans le ciel.
	L'avion est dans le jardin.
	La voiture roule sur la route.
	La voiture a des yeux.
	Des yeux sont sur la route.