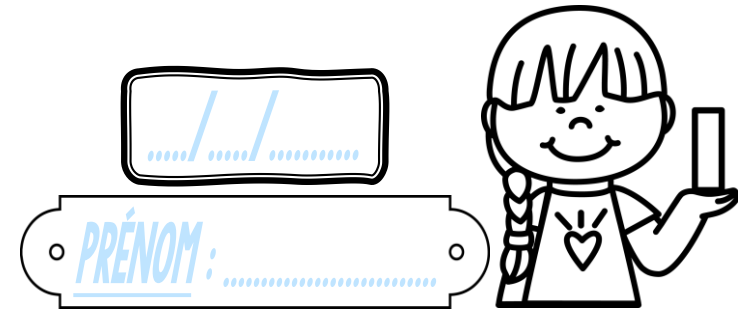


Calcul

CE2



<https://laclassebleue.fr/>

① Effectue ces soustractions.

$\begin{array}{r} 479 \\ - 235 \\ \hline \end{array}$	$\begin{array}{r} 763 \\ - 241 \\ \hline \end{array}$	$\begin{array}{r} 652 \\ - 418 \\ \hline \end{array}$	$\begin{array}{r} 307 \\ - 152 \\ \hline \end{array}$	$\begin{array}{r} 848 \\ - 439 \\ \hline \end{array}$	$\begin{array}{r} 693 \\ - 245 \\ \hline \end{array}$
---	---	---	---	---	---

② Résous ces deux problèmes.



◆ L'album de Léa peut contenir 238 timbres. Elle a déjà collé 156 timbres.
Combien peut-elle encore en coller ?

Léa peut encore coller timbres.

◆ Louis Pasteur est né en 1822. Il a découvert le vaccin contre la rage en 1885.
Quel âge avait-il à ce moment-là ?




Pasteur avait ans en 1885.

Calcul

CE2

..... / /

PRÉNOM :



<https://laclassebleue.fr/>

① Pose et effectue ces soustractions.

$845 - 421$	$678 - 326$	$453 - 237$	$964 - 519$	$734 - 282$	$342 - 108$

② Résous ces deux problèmes.

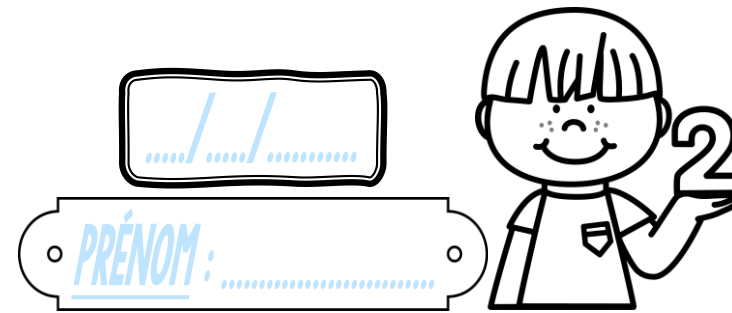
◆ Elsa avait 358 autocollants de joueurs de football. Elle en offre 86 à Thomas.
Combien lui en reste-t-il ?



◆ Un parking peut contenir 640 voitures. 277 places sont occupées.
Combien de places sont encore disponibles ?

Calcul

CE2



<https://laclassobleue.fr/>

① Pose et effectue ces soustractions.

845 - 421	678 - 326	453 - 237	964 - 519	734 - 282	342 - 108

② Résous ces deux problèmes.



◆ Elsa avait 358 autocollants de joueurs de football. Elle en offre 86 à Thomas.

Combien lui en reste-t-il ?

Elsa a encore autocollants.



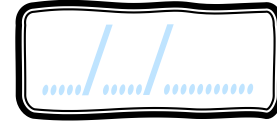

◆ Un parking peut contenir 640 voitures. 277 places sont occupées.

Combien de places sont encore disponibles ?

..... places sont encore disponibles.

Calcul

CE2



PRÉNOM :



<https://laclassebleue.fr/>

① Pose et effectue une soustraction avec ces couples de nombres.

493 et 268

409 et 645

392 et 748

857 et 542

233 et 350

594 et 137

② Résous ces deux problèmes.

◆ Le toit de la maison d'Anatole comptait 647 tuiles. Pendant une tempête, 125 tuiles sont tombées du toit.


Combien de tuiles reste-t-il sur le toit ?

◆ La plus haute pyramide d'Égypte mesure 160 mètres de hauteur. La tour Eiffel mesure 324 mètres.

Quel écart y a-t-il entre les deux tours ?

Calcul

CE2



...../...../.....

PRÉNOM :



<https://laclassebleue.fr/>

① Pose et effectue une soustraction avec ces couples de nombres.

493 et 268

409 et 645

392 et 748

857 et 542

233 et 350

594 et 137

② Résous ces deux problèmes.

◆ Le toit de la maison d'Anatole comptait 647 tuiles. Pendant une tempête, 125 tuiles sont tombées du toit.

Combien de tuiles reste-t-il sur le toit ?

Il reste tuiles sur le toit de la maison d'Anatole.

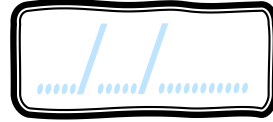
◆ La plus haute pyramide d'Égypte mesure 160 mètres de hauteur. La tour Eiffel mesure 324 mètres.

Quel écart y a-t-il entre les deux tours ?


Il y a m d'écart entre les deux tours.

Calcul

CE2



PRÉNOM :



<https://laclassobleue.fr/>

① Effectue ces soustractions.

	5	8	9	
-	3	7	5	
<hr/>				

	8	5	7	
-	2	8	4	
<hr/>				

	4	3	8	
-		7	5	
<hr/>				

	6	1	3	
-	2	0	9	
<hr/>				

	7	5	4	3
-	3	2	9	1
<hr/>				

	8	1	5	0
-	2	5	2	7
<hr/>				

② Résous ces deux problèmes.

◆ Dans un train, il y a 537 voyageurs.
À la gare, 162 personnes descendent.

Combien de voyageurs reste-t-il dans le train ?



◆ Le peintre espagnol Pablo Picasso est né en 1881. Il est mort en 1973.



À quel âge est-il décédé ?


Calcul

CE2



...../...../.....

PRÉNOM :



<https://laclassibleve.fr/>

① **Effectue** ces soustractions.

	5	8	9	
	-	3	7	5
<hr/>				

	8	5	7	
	-	2	8	4
<hr/>				

	4	3	8	
	-		7	5
<hr/>				

	6	1	3	
	-	2	0	9
<hr/>				

	7	5	4	3	
	-	3	2	9	1
<hr/>					

	8	1	5	0	
	-	2	5	2	7
<hr/>					

② **Résous** ces deux problèmes.

◆ Dans un train, il y a 537 voyageurs.
À la gare, 162 personnes descendent.

Combien de voyageurs reste-t-il dans le train ?

Il reste voyageurs dans le train.																			
---	--	--	--	--	--	--	--	--	--	--	--	--	--	--	--	--	--	--	--



◆ Le peintre espagnol Pablo Picasso est né en 1881. Il est mort en 1973.

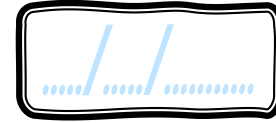



À quel âge est-il décédé ?

Picasso est mort à l'âge de ans.																			
--	--	--	--	--	--	--	--	--	--	--	--	--	--	--	--	--	--	--	--

Calcul

CE2



PRÉNOM :



<https://laclassobleue.fr/>

① Pose et effectue ces soustractions.

$273 - 129$

$428 - 135$

$939 - 61$

$3\ 562 - 2\ 928$


$6\ 745 - 3\ 469$

$7\ 403 - 895$

② Résous ces deux problèmes.

◆ Un éleveur avait un troupeau de 540 moutons en début d'année. Cet été, il a vendu 186 bêtes.

Combien de moutons a-t-il maintenant ?

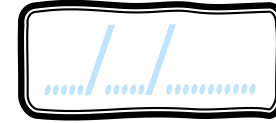



◆ Le théâtre de la ville peut accueillir 783 personnes. Pour le spectacle de samedi soir, 657 places ont été vendues.


Combien reste-t-il de places à vendre ?

Calcul

CE2



PRÉNOM :



<https://laclassobleue.fr/>

① Pose et effectue ces soustractions.


$273 - 129$	$428 - 135$	$939 - 61$	$3\ 562 - 2\ 928$	$6\ 745 - 3\ 469$	$7\ 403 - 895$

② Résous ces deux problèmes.

◆ Un éleveur avait un troupeau de 540 moutons en début d'année. Cet été, il a vendu 186 bêtes.

Cet éleveur a maintenant bêtes.

Combien de moutons a-t-il maintenant ?



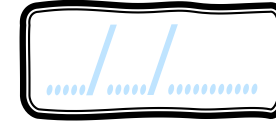
◆ Le théâtre de la ville peut accueillir 783 personnes. Pour le spectacle de samedi soir, 657 places ont été vendues.

Il reste places à vendre.

Combien reste-t-il de places à vendre ?

Calcul

CE2



PRÉNOM:



<https://laclassobleue.fr/>

① Pose et effectue une soustraction avec ces couples de nombres.

466 et 897

764 et 515

88 et 621

637 et 804

5 439 et 662

7 022 et 4 029

② Résous ces deux problèmes.

◆ Le chapiteau du cirque peut contenir 838 personnes. 745 billets ont déjà été vendus.

Combien peut-on encore vendre de billets ?

◆ Walt Disney est né le 5 décembre 1901. Il est mort le 15 décembre 1966.

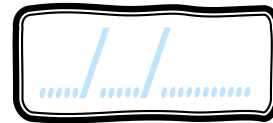
À quel âge est-il décédé ?



Calcul/la soustraction posée

Calcul

CE2



PRÉNOM :



<https://laclassobleue.fr/>

① Pose et effectue une soustraction avec ces couples de nombres.

466 et 897	764 et 515	88 et 621	637 et 804	5 439 et 662	7 022 et 4 029																																																																																																
<table border="1"><tr><td> </td><td> </td><td> </td><td> </td></tr><tr><td> </td><td> </td><td> </td><td> </td></tr><tr><td> </td><td> </td><td> </td><td> </td></tr><tr><td> </td><td> </td><td> </td><td> </td></tr></table>																	<table border="1"><tr><td> </td><td> </td><td> </td><td> </td></tr><tr><td> </td><td> </td><td> </td><td> </td></tr><tr><td> </td><td> </td><td> </td><td> </td></tr><tr><td> </td><td> </td><td> </td><td> </td></tr></table>																	<table border="1"><tr><td> </td><td> </td><td> </td><td> </td></tr><tr><td> </td><td> </td><td> </td><td> </td></tr><tr><td> </td><td> </td><td> </td><td> </td></tr><tr><td> </td><td> </td><td> </td><td> </td></tr></table>																	<table border="1"><tr><td> </td><td> </td><td> </td><td> </td></tr><tr><td> </td><td> </td><td> </td><td> </td></tr><tr><td> </td><td> </td><td> </td><td> </td></tr><tr><td> </td><td> </td><td> </td><td> </td></tr></table>																	<table border="1"><tr><td> </td><td> </td><td> </td><td> </td></tr><tr><td> </td><td> </td><td> </td><td> </td></tr><tr><td> </td><td> </td><td> </td><td> </td></tr><tr><td> </td><td> </td><td> </td><td> </td></tr></table>																	<table border="1"><tr><td> </td><td> </td><td> </td><td> </td></tr><tr><td> </td><td> </td><td> </td><td> </td></tr><tr><td> </td><td> </td><td> </td><td> </td></tr><tr><td> </td><td> </td><td> </td><td> </td></tr></table>																

② Résous ces deux problèmes.

◆ Le chapiteau du cirque peut contenir 838 personnes. 745 billets ont déjà été vendus.

Combien peut-on encore vendre de billets ?

On peut encore vendre billets.	<table border="1"><tr><td> </td><td> </td><td> </td><td> </td></tr><tr><td> </td><td> </td><td> </td><td> </td></tr><tr><td> </td><td> </td><td> </td><td> </td></tr><tr><td> </td><td> </td><td> </td><td> </td></tr></table>																

◆ Walt Disney est né le 5 décembre 1901. Il est mort le 15 décembre 1966.

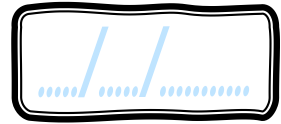
À quel âge est-il décédé ?



Walt Disney est décédé à ans.	<table border="1"><tr><td> </td><td> </td><td> </td><td> </td></tr><tr><td> </td><td> </td><td> </td><td> </td></tr><tr><td> </td><td> </td><td> </td><td> </td></tr><tr><td> </td><td> </td><td> </td><td> </td></tr></table>																

Calcul

CE2



PRÉNOM :



① Effectue ces soustractions.

<https://laclassebleue.fr/>

4	8	3
-	1	0
<hr/>		

8	2	2
-	3	9
<hr/>		

6	0	6
-	5	2
<hr/>		

5	9	4	7
-	3	6	2
<hr/>			

7	4	3	9
-	6	2	7
<hr/>			

9	2	9	3
-	4	8	0
<hr/>			

② Résous ces deux problèmes.

◆ Parti à 7h15, un chauffeur routier doit parcourir 1 462 km en 3 jours. À midi, il a déjà parcouru 248 km.

Quelle distance lui reste-t-il à parcourir ?

<hr/>																													
-------	--	--	--	--	--	--	--	--	--	--	--	--	--	--	--	--	--	--	--	--	--	--	--	--	--	--	--	--	--

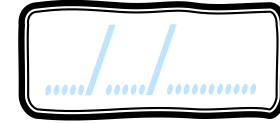
◆ Pendant sa tournée, un groupe de rap a rassemblé 5 468 spectateurs. et 6 215 la semaine suivante.

Combien de spectateurs supplémentaires sont venus en 2^{ème} semaine ?

<hr/>																													
-------	--	--	--	--	--	--	--	--	--	--	--	--	--	--	--	--	--	--	--	--	--	--	--	--	--	--	--	--	--

Calcul

CE2



PRÉNOM :



<https://laclassobleue.fr/>

① Effectue ces soustractions.

		4	8	3
		-	1	0
		<hr/>		

		8	2	2
		-	3	9
		<hr/>		

		6	0	6
		-	5	2
		<hr/>		

		5	9	4	7
		-	3	6	2
		<hr/>			

		7	4	3	9
		-	6	2	7
		<hr/>			

		9	2	9	3
		-	4	8	0
		<hr/>			

② Résous ces deux problèmes.

◆ Parti à 7h15, un chauffeur routier doit parcourir 1 462 km en 3 jours. À midi, il a déjà parcouru 248 km.

Quelle distance lui reste-t-il à parcourir ?

Le chauffeur a encore km à parcourir.

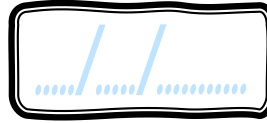
◆ Pendant sa tournée, un groupe de rap a rassemblé 5 468 spectateurs. et 6 215 la semaine suivante.

Combien de spectateurs supplémentaires sont venus en 2^{ème} semaine ?


..... spectateurs supplémentaires sont venus en 2^{ème} semaine.

Calcul

CE2



PRÉNOM :



<https://laclassebleue.fr/>

① Pose et effectue ces soustractions.

$348 - 286$

$729 - 503$

$450 - 72$

$2\ 806 - 334$

$5\ 015 - 2\ 562$

$9\ 561 - 4\ 807$

② Résous ces deux problèmes.

◆ La statue de la Liberté se trouve à New York. Elle a fini d'être construite en 1 886.



La statue de la Liberté a ans.

Quel âge a la statue de la Liberté ?

◆ Hugo souhaite acheter une console de jeux au prix de 289 €. Le vendeur lui applique une réduction de 45 €.

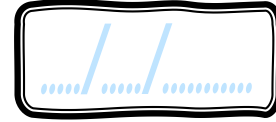


Hugo va payer € pour sa console.

Combien Hugo va-t-il payer ?

Calcul

CE2



PRÉNOM:

<https://laclassebleue.fr/>

① Pose et effectue une soustraction avec ces couples de nombres.

672 et 233

423 et 927

246 et 481

7 052 et 1 419

2 489 et 3 370

7 022 et 4 029

② Résous ces deux problèmes.

◆ La bibliothèque du village contient exactement 2 736 livres. 1 380 livres ont été empruntés.

Combien reste-t-il de livres disponibles ?

Il reste livres disponibles.

◆ Situé en Europe, le mont Blanc culmine à 4 810 m d'altitude. En Asie, le mont Everest atteint pour sa part 8 848 m.

Quelle est la différence d'altitude entre ces deux sommets ?

La différence d'altitude entre ces deux sommets est de m.