

Nombres et quantités: de 0 à 89



1 Relie les nombres dans l'ordre, de 1 à 90

www.pointapoint.com

2 Complète :

82	$80 + 2$
76	
87	
61	

	$80 + 5$
	$80 + 3$
	$70 + 7$
	$80 + 9$

Prénom : _____

Date: _____

Nombres et quantités : de 0 à 89



1 Complète le tableau:

nombre avant	nombre	nombre après
	85	
88		
		81
87		

2 Complète avec <, > ou =:

3  15

65 85

42 62

18 81

80 8

67 87

78 85

81 81

44 88

3 Relie les nombres à leur place sur la droite graduée

48

62

78

84

87

50


60

70

80

90

4 Complète la bande numérique:

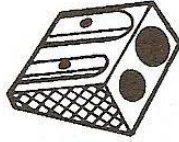


Nombres et quantités : de 0 à 89




1 Ecris les nombres manquants:

73 76

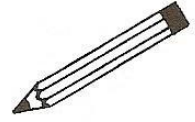


..... 76



79 82


67



.....
.....
.....
79
.....	89

75
.....
.....
.....
.....	85

2 Compte en groupant par 10:



Prénom : _____

Date: _____

Nombres et quantités : de 0 à 89

3  15

1 Complète avec $<$, $>$ ou $=$:

82 8d 3u

81 8d

84 8d 4u

89 7d 9u

74 4d 7u

80 8d

2 Ecris les nombres dans l'ordre croissant, du plus petit au plus grand:


71 - 74 - 53 - 89 - 87 - 67

<input type="text"/>	<input type="text"/>	<input type="text"/>	<input type="text"/>	<input type="text"/>	<input type="text"/>
----------------------	----------------------	----------------------	----------------------	----------------------	----------------------

3 Ecris les nombres en lettres:

44	
89	
76	
87	
77	
81	

4 Complète la bande numérique:



Prénom : _____

Date: _____

Nombres et quantités : de 0 à 89



1 Complète les tableaux:

54	5d 4u
75	
82	
60	

	8d 5u
	6d 7u
	4d 8u
	8d 0u

2 Colorie le chiffre 8 quand il correspond une dizaine:

82

48

5

89

78

88

67

6

3 Ecris les nombres dans l'ordre croissant, du plus petit au plus grand:

48 - 74 - 38 - 88 - 73 - 83

4 Dessine :

83 	89
81	80

Prénom : _____

Date: _____

Nombres et quantités : de 0 à 89

3  15

1 Complète avec $<$, $>$ ou $=$:

82 $80+2$

76 $70+2$

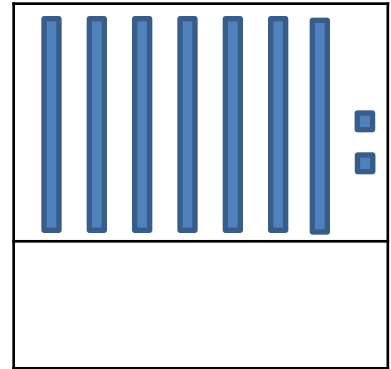
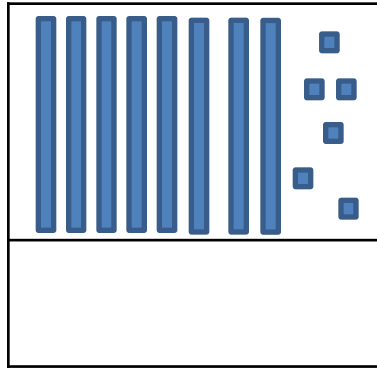
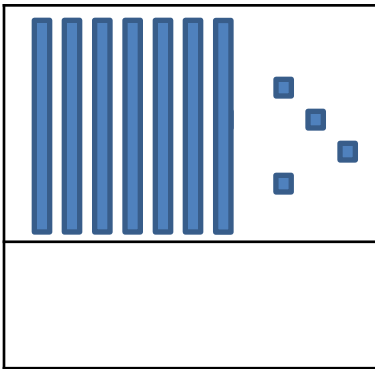
88 $50+8$

78 $80+7$

86 $20+20+6$

88 $20+20+ 20+20+8$

2 Compte et complète :



3 Ecris les nombres du plus grand au plus petit:

76 - 68 - 56 - 85 - 70 - 80

3 Complète :

