




Découvrir

Les collections de fèves


a Anaïs range sa collection de fèves. **Écris** combien elle en possède.




___ + ___ = ___



b Léa, Marie, Martin et Sabrina ont eux aussi des fèves. **Complète** les égalités pour savoir combien.



___ + ___ = ___ ___ + ___ = ___



___ + ___ = ___ ___ + ___ = ___



Retenir

quinze	15
--------	----

seize	16
-------	----

dix-sept	17
----------	----



dix-huit	18
----------	----

dix-neuf	19
----------	----





S'entraîner



1 Léa a rangé ses fèves de différentes façons. **Complète** les égalités.




___ + ___ = ___



___ + ___ = ___



___ + ___ = ___



2 Observe et complète les égalités.

$1 + 6 = 7$

$4 + 4 = \underline{\quad}$

$7 + 2 = \underline{\quad}$

$11 + 6 = 17$

$14 + 4 = \underline{\quad}$

$17 + 2 = \underline{\quad}$

$5 + 4 = \underline{\quad}$

$7 + 2 = \underline{\quad}$

$15 + 4 = \underline{\quad}$

$7 + 12 = \underline{\quad}$

3 Colorie de la même couleur les étiquettes portant le même nombre.

$13 + 4$

$15 + 3$

$10 + 7$

$9 + 9$

$16 + 2$

$10 + 8$

| Lire, écrire et décomposer les nombres de 15 à 19