

**Travail à faire sur le cahier de brouillon ou pouvant être imprimés.  
Lire et apprendre les leçons dans le cahier de leçons  
Semaine 2**

**Jour 7**

**Dictée n°22**

**Dictée de phrases :**

Nous nageons dans les océans profonds et froids.

**Analyse grammaticale :**

Nous nageons dans les océans profonds et froids.

**Epelle-moi**

**S'entraîner tous les jours à épeler ces mots. Recopier les mots épelle-moi.**

**Série 5**

facile  
spectacle  
exiger  
reposer  
départ  
danser  
saluer  
accorder  
désert  
expérience

**Série 6**

achever  
avouer  
distinguer  
sommeil  
moitié  
magnifique  
calme  
contraire  
morne

**Travail à faire sur le cahier de brouillon ou pouvant être imprimés.  
Lire et apprendre les leçons dans le cahier de leçons  
Semaine 2**

## Lecture

Pour chaque lecture et récitation :

Envoie un audio : envoie à la maitresse en t'enregistrant avec un téléphone, ta tablette ou un ordinateur).

Lis ta poésie « La fourmi et la Cigale » 3 fois.

Récite toute ta poésie devant ta famille.

Lis ce texte à haute voix :

Pour peigner une girafe  
Qui est grande, gracile,  
Et élégante  
On l'installe dans un jardin,  
On lui propose une orangeade  
Et on appelle un géant.  
Si la girafe gesticule,  
Le géant la gronde :  
- De grâce, votre Grandeur,  
Cesser de gigoter,  
Ou vous aurez l'air de quoi ?  
Coiffée comme une guenon !

**Travail à faire sur le cahier de brouillon ou pouvant être imprimés.  
Lire et apprendre les leçons dans le cahier de leçons  
Semaine 2**

**Écris le mot qui correspond à la définition.**

escargot - dragon - plage - guitare - bougie - marguerite - orange  
- coquillage - règle - ogre - cage

C'est une prison pour les animaux. C'est une \_\_\_\_\_

C'est un fruit. Son nom est sa couleur. C'est une \_\_\_\_\_

Elle sert à tracer des traits droits. C'est une \_\_\_\_\_

C'est un animal très lent qui porte sa maison sur son dos. C'est un  
\_\_\_\_\_

On en trouve sur les plages. C'est un \_\_\_\_\_

C'est un animal qui crache du feu. C'est un \_\_\_\_\_

C'est un personnage imaginaire qui dévore les enfants. C'est un  
\_\_\_\_\_

## Grammaire

**Lis la leçon sur la phrase négative puis fais les exercices.**

**Sur ton cahier, écris ces phrases négatives à la forme affirmative.**

Il ne mange jamais proprement. → .....

Je n'ai pas trouvé. → .....

Cette boutique n'est jamais ouverte le lundi. → .....

Nous ne travaillons pas le dimanche. → .....

**Travail à faire sur le cahier de brouillon ou pouvant être imprimés.  
Lire et apprendre les leçons dans le cahier de leçons  
Semaine 2**

Julie ne veut plus de dessert. → .....

**Sur ton cahier, écris ces phrases affirmatives à la forme négative.**

Il neige en montagne. → .....

Cette route est souvent glissante. → .....

Aujourd'hui, on se déplace en diligence. → .....

J'aime un peu cette peinture. → .....

L'horloge indique toujours l'heure exacte. → .....

## Géométrie

**Tu lis la leçon puis tu fais l'exercice.**

### Je retiens

- Les **figures dont tous les côtés sont droits** s'appellent des **polygones**.

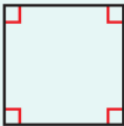




Cette figure est un polygone.



Cette figure n'est pas un polygone.

- Les polygones qui ont **4 côtés** s'appellent des **quadrilatères**. Parmi eux se trouvent le **carré**, le **rectangle** et le **losange**.

Le carré	Le rectangle	Le losange
 <ul style="list-style-type: none"> <li>• 4 sommets</li> <li>• 4 côtés égaux</li> <li>• 4 angles droits</li> </ul>	 <ul style="list-style-type: none"> <li>• 4 sommets</li> <li>• 4 côtés : 2 largeurs égales et 2 longueurs égales</li> <li>• 4 angles droits</li> </ul>	 <ul style="list-style-type: none"> <li>• 4 sommets</li> <li>• 4 côtés égaux</li> </ul>

- On nomme une figure par ses sommets. *Ex. : le rectangle ABCD.*

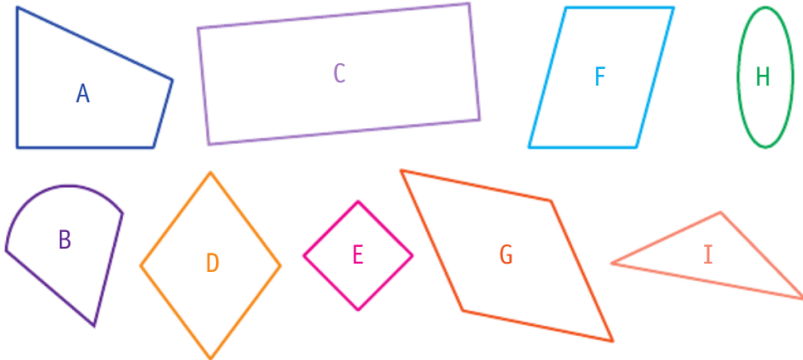
**Travail à faire sur le cahier de brouillon ou pouvant être imprimés.  
Lire et apprendre les leçons dans le cahier de leçons  
Semaine 2**

**Reconnaitre et nommer un carré, un rectangle, un losange**

Pense à vérifier les angles et l'égalité des côtés des figures.



**1** \* Observe ces figures, puis complète le tableau.



	Figures
Polygone	
Carré	
Rectangle	
Losange	

**Calcul**

**Calcule :**

$\begin{array}{r} \phantom{0}26 \\ \times \phantom{0}3 \\ \hline \phantom{0} \\ \phantom{0} \\ \phantom{0} \end{array}$	$\begin{array}{r} \phantom{0}127 \\ \times \phantom{0}2 \\ \hline \phantom{0} \\ \phantom{0} \\ \phantom{0} \end{array}$	$\begin{array}{r} \phantom{0}49 \\ \times \phantom{0}5 \\ \hline \phantom{0} \\ \phantom{0} \\ \phantom{0} \end{array}$	$\begin{array}{r} \phantom{0}710 \\ \times \phantom{0}9 \\ \hline \phantom{0} \\ \phantom{0} \\ \phantom{0} \end{array}$
---	--	---	--

**Calcul mental**

**Table de multiplication de 9**

**Complète ta table de multiplication en 1 min.**

...x9= 36	.....x9= 0	...x9= 90
...x9= 81	...x9= 54	...x9= 27
...x9= 45	...x 9= 72	...x9= 18

Travail à faire sur le cahier de brouillon ou pouvant être imprimés.  
Lire et apprendre les leçons dans le cahier de leçons  
Semaine 2

...x9= 63

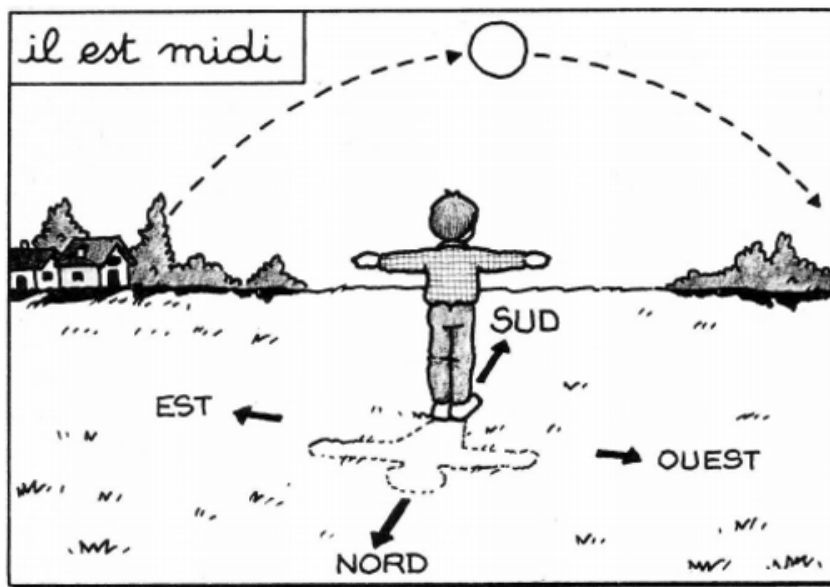
## Questionner le monde

- Lire la leçon sur les points cardinaux.
- Fais l'exercice.

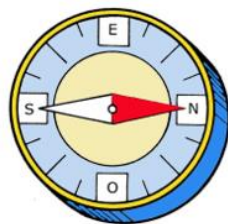
### Les points cardinaux

Pour s'orienter, il faut trouver l'un des 4 points cardinaux. Ces points cardinaux sont : le Nord (N), le Sud (S), l'Est (E) et l'Ouest (O).

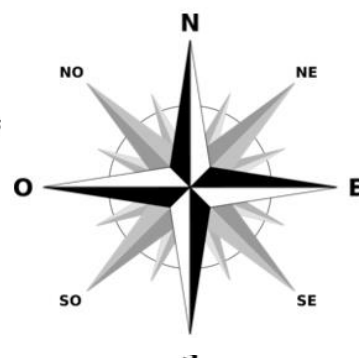
Le soleil peut nous aider : il nous indique l'Est lorsqu'il se lève, le Sud à midi et l'Ouest lorsqu'il se couche.



Pour s'orienter, on utilise aussi la boussole. C'est l'aiguille rouge de la boussole qui indique le nord.



Nous voyons aussi régulièrement la rose des vents qui indique où se trouve les points cardinaux :



**Travail à faire sur le cahier de brouillon ou pouvant être imprimés.  
Lire et apprendre les leçons dans le cahier de leçons  
Semaine 2**

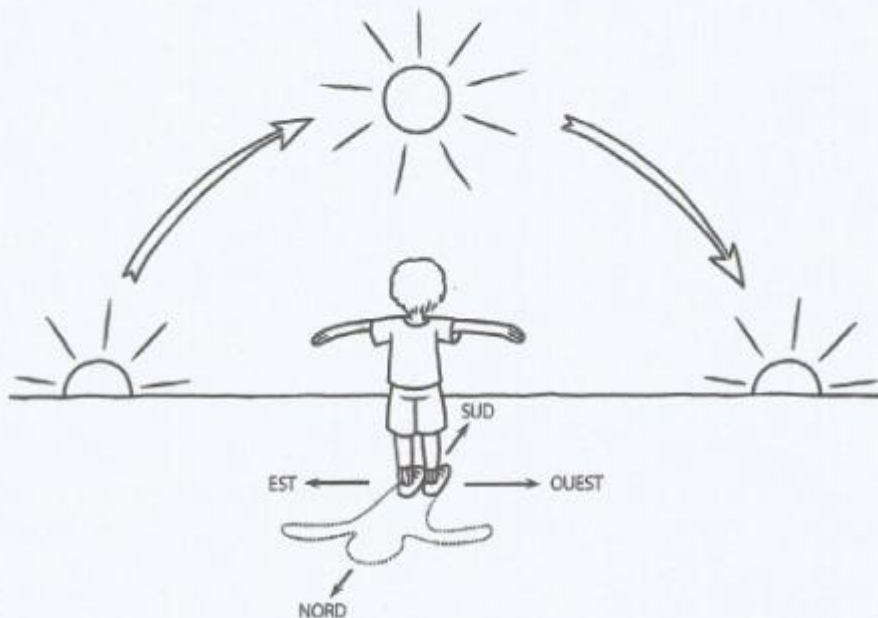
- ① **Lis ce texte puis sur le dessin, colorie le soleil en jaune et l'ombre de l'enfant en noir.**

Le matin, le soleil apparaît dans le ciel, toujours du même côté, à l'est.  
C'est le soleil levant.

Le soir, le soleil disparaît derrière l'horizon, toujours du même côté,  
à l'ouest. C'est le soleil couchant.

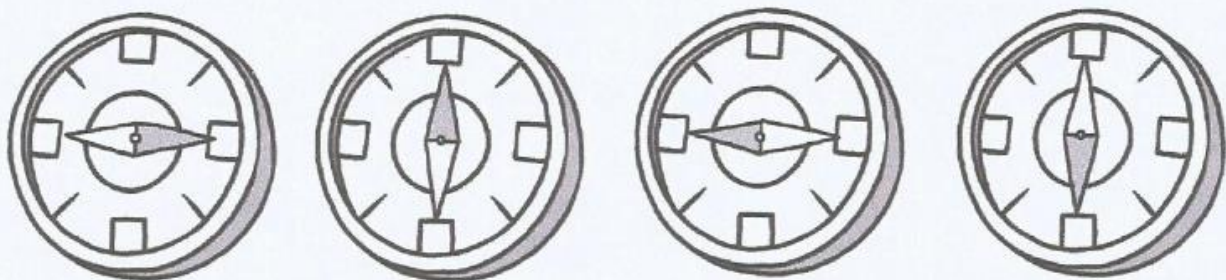
Quand le soleil est au plus haut dans le ciel, au milieu de la journée,  
si tu le regardes, tu regardes dans la direction du sud. Ton ombre est alors  
dans ton dos et indique la direction du nord.

Le Nord, le Sud, l'Est et l'Ouest sont les 4 points cardinaux.



- ② **Dans une boussole, l'aiguille rouge indique toujours le Nord.**

**Colorie en rouge la partie grise de chaque aiguille de boussole.**



**Maintenant, écris sur chaque boussole les points cardinaux :  
N pour Nord, S pour Sud, O pour Ouest et E pour Est.**