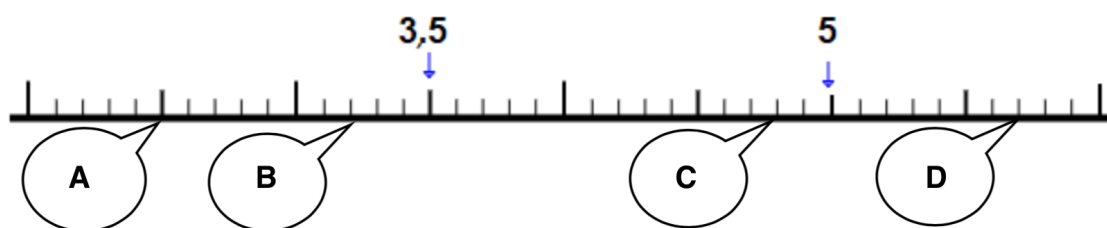


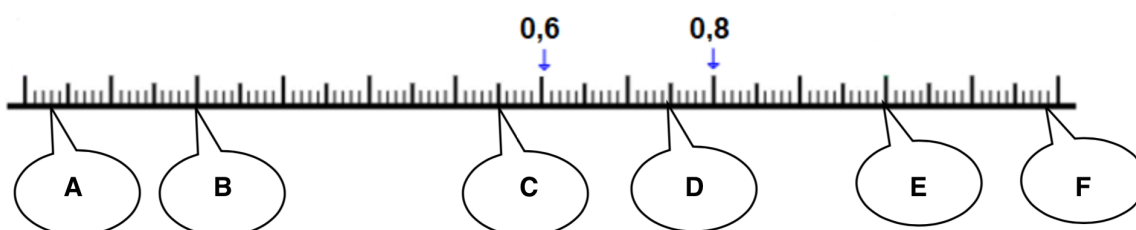
Numération

Quel nombre décimal correspond aux points A, B, C, D ?



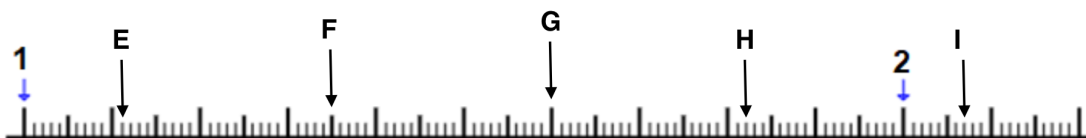
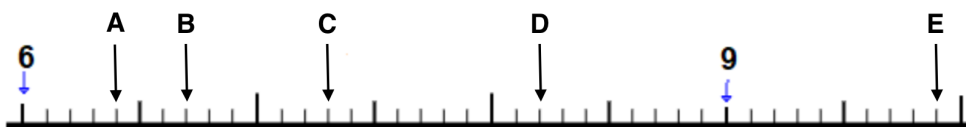
Numération

Quel nombre décimal correspond aux points A, B, C, D, E, F ?



Numération

Place les nombres décimaux suivants sur les bonnes droites graduées 2,07 ; 9,9 ; 1,82 ; 8,2 ; 1,6 ; 1,35 ; 7,3 ; 6,7 ; 1,11 ; 6,4



Calculs

Tu peux regarder la vidéo suivante pour être certain d'avoir bien compris :

<https://www.youtube.com/watch?v=FwZvo9bV5U0>

Sur ton cahier vert, pose les divisions suivantes et donne le résultat comme dans l'exemple :

Exemple : $326 \div 23 : q= 14 \quad r = 4$

$$251 \div 15 =$$

$$376 \div 25 =$$

$$457 \div 38 =$$

$$504 \div 46 =$$

$$6\,214 \div 72 =$$