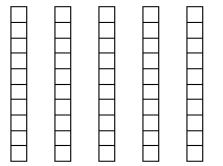

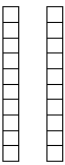



CAL L2505 **Exercice 1** : Yann a 57 billes, il en donne 23 à John. Combien reste-t-il de billes à Yann ?

a) Complète le schéma pour cette soustraction.

b) Ecris la soustraction en colonnes, puis en ligne.

	<b>d</b>	<b>u</b>
Yann		
John		
+		
	•	•

Calcul écrit en colonnes :

	<b>d</b>	<b>u</b>
	•	•
+	•	•
	•	•

Calcul écrit en ligne :

.....

CAL M2605 **Exercice 2** : Calcule ces soustractions écrites en colonnes :

**A**

	<b>d</b>	<b>u</b>
	7	9
-	4	3

**B**

	<b>d</b>	<b>u</b>
	6	2
-	5	1

**C**

	<b>d</b>	<b>u</b>
	9	9
-	1	0

**D**

	<b>d</b>	<b>u</b>
	5	4
-	3	6

**E**

	<b>d</b>	<b>u</b>
	3	0
-	2	8

**F**

	<b>d</b>	<b>u</b>
	9	8
-	3	9