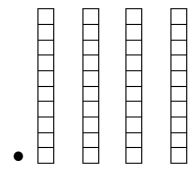

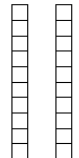



CAL L1805 **Exercice 1** : deux pirates mettent en commun leurs pièces. Combien de pièces ont-ils ensemble ?

a) Complète le schéma pour cette addition.

b) Ecris l'addition en colonnes, puis en ligne.

	<b>d</b>	<b>u</b>
Martin		
Jérôme		
+		
	•	•

Calcul écrit en colonnes :

	<b>d</b>	<b>u</b>
	•	•
+	•	•
	•	•

Calcul écrit en ligne :

.....

CAL M1905 **Exercice 2** : trouve les chiffres manquants dans ces additions écrites colonnes :

**A**

	<b>d</b>	<b>u</b>
	4	4
+	•	•
	8	6

**B**

	<b>d</b>	<b>u</b>
	•	•
+	5	3
	9	8

**C**

	<b>d</b>	<b>u</b>
	3	•
+	•	2
	9	8

**D**

	<b>d</b>	<b>u</b>
	2	5
+	•	•
	5	0

**E**

	<b>d</b>	<b>u</b>
	3	8
+	•	•
	4	2

**F**

	<b>d</b>	<b>u</b>
	5	8
+	•	•
	9	6