

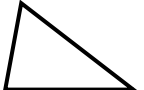

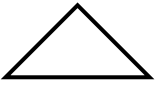
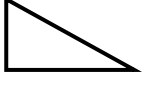
Prénom :

Date :

	<h1 style="margin: 0;">GÉOMÉTRIE</h1> <p style="margin: 0;">Les triangles <small>(02)</small></p>
---	---

- Les figures géométriques à 3 côtés et 3 sommets : les triangles

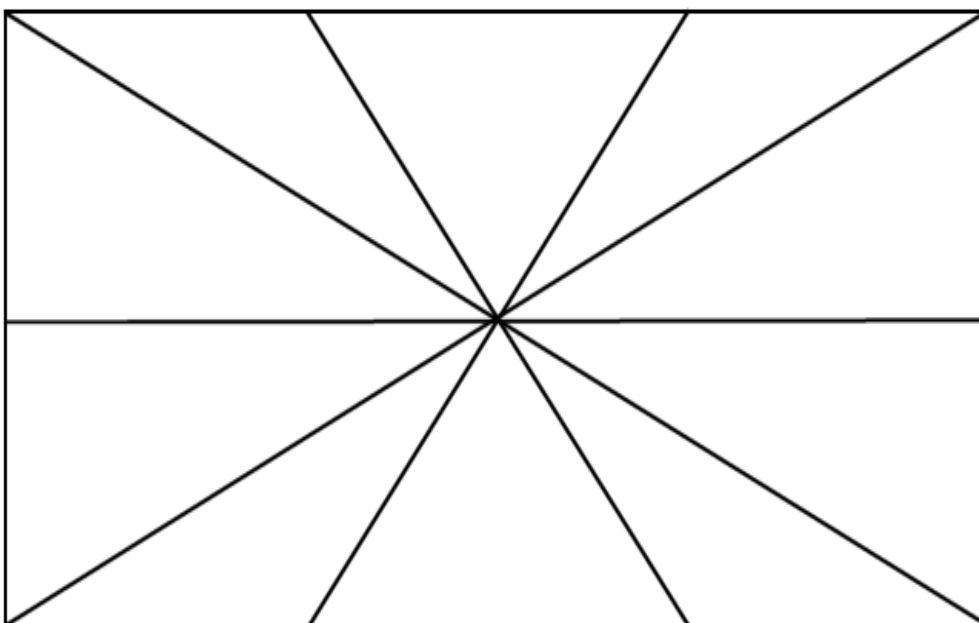
1./ Complète :

	: un triangle quelconque		: un triangle équilatéral
	: un triangle isocèle		: un triangle rectangle

2./ Complète :

Noms de la figure	Particularités
Le triangle quelconque	Aucune
Le triangle isocèle	2 côtés égaux et 2 angles égaux
Le triangle rectangle	1 angle droit
Le triangle équilatéral	3 côtés égaux et 3 angles égaux

3./ Combien de triangles trouve-t-on dans cette figure :



Triangle quelconque	Triangle équilatéral	Triangle isocèle	Triangle rectangle
4	0	6	12