

Nom :

Date :

- Reconnaître une situation additive ou soustractive.
- Employer la bonne opération.

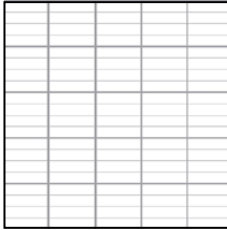
Problèmes

Situations additives et soustractives Niveau 1



1

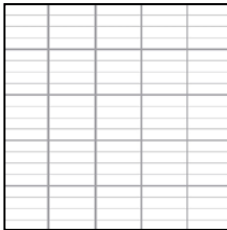
Dans une classe de 25 élèves, 12 élèves sont des filles. Combien y a-t-il de garçons dans la classe?



Pose l'opération et réponds à la question.

2


Pour acheter un cadeau à leur maman 3 enfants se cotisent. Julie donne 15 €, Paul 12 € et Marc 10 €. **Combien d'argent ont-ils ensemble ?**



Pose l'opération et réponds à la question.

3


Martin a 28 timbres dans sa collection. En les recomptant, il n'y en a que 13.

Combien lui en manque-t-il ?

Pose l'opération et réponds à la question.

4

Un randonneur marche 12 km le premier jour, 20 km le deuxième jour et enfin 16 km le dernier jour. **Quelle distance a-t-il parcouru ?**



Pose l'opération et réponds à la question

Nom :

Date :

- Reconnaître une situation additive ou soustractive.
- Employer la bonne opération.

Problèmes

Situations additives et soustractives

Niveau 1



5

Mr Léon a 40 ans. Il a 28 ans de plus que Louis, son enfant.

Quel âge a Louis ?

Pose l'opération et réponds à la question.

6

Dans une forêt de 225 arbres, une tempête en a arraché 15.

Combien en reste-t-il ?

Pose l'opération et réponds à la question.

7

Une baignoire contient 220 litres. Maman fait couler 80 litres d'eau chaude puis 125 litres d'eau froide. **La baignoire va-t-elle déborder ?**

Pose l'opération et réponds à la question.

8

Pour son anniversaire, Marie a prévu 12 cakes au chocolat et 8 tartelettes aux pommes pour ses 17 copines. **En aura-t-elle assez ?**

Pose l'opération et réponds à la question

Nom :

Date :

- Reconnaître une situation additive ou soustractive.
- Employer la bonne opération.

Problèmes

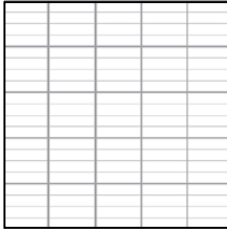
Situations additives et soustractives

Niveau 2



9

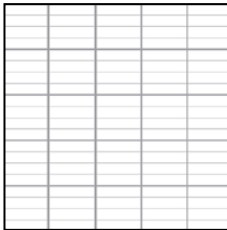
Pierre donne 9 billes à Jonas. Il lui en reste 27.

Combien Pierre avait-il de billes avant d'en donner ?

Pose l'opération et réponds à la question.


10

Un voyageur arrive à la gare à 23 heures, après 8 heures de train.

A quelle heure est-il parti ?


Pose l'opération et réponds à la question.

11

Lina lit un livre de 84 pages. Lundi elle lit 20 pages. Mardi elle lit 28 pages et mercredi 32 pages. **A-t-elle fini son livre ?**

Pose l'opération et réponds à la question.

12

A la récréation, Mona sort son paquet de 30 bonbons. Elle en mange 3 et en donne 2 à Julie et 4 à Martin. **Combien lui en reste-t-il ?**

Pose l'opération et réponds à la question.

Nom :

Date :

- Reconnaître une situation additive ou soustractive.
- Employer la bonne opération.

Problèmes

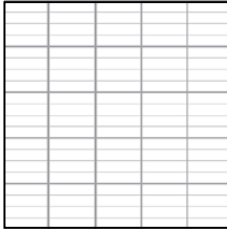
Situations additives et soustractives

Niveau 1



1

Dans une classe de 25 élèves, 12 élèves sont des filles. Combien y a-t-il de garçons dans la classe?

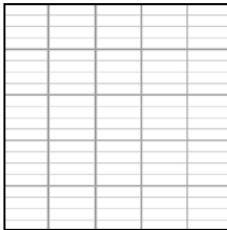


$$25 - 12 = 13$$

Il y a 13 garçons

2

Pour acheter un cadeau à leur maman 3 enfants se cotisent. Julie donne 15 €, Paul 12 € et Marc 10 €. **Combien d'argent ont-ils ensemble ?**




$$15 + 12 + 10 = 37$$

Ils ont 37€

3

Martin a 28 timbres dans sa collection. En les recomptant, il n'y en a que 13.

Combien lui en manque-t-il ?




$$28 - 13 = 15$$

Il lui en manque 15

4

Un randonneur marche 12 km le premier jour, 20 km le deuxième jour et enfin 16 km le dernier jour. **Quelle distance a-t-il parcouru ?**



$$12 + 20 + 16 = 48$$

Il a parcouru 48 km

Nom :

Date :

- Reconnaître une situation additive ou soustractive.
- Employer la bonne opération.

Problèmes

Situations additives et soustractives

Niveau 1



5

Mr Léon a 40 ans. Il a 28 ans de plus que Louis, son enfant.

Quel âge a Louis ?

$$40 - 28 = 12$$

Louis a 12 ans

6

Dans une forêt de 225 arbres, une tempête en a arraché 15.

Combien en reste-t-il ?

$$225 - 15 = 210$$

Il en reste 210

7

Une baignoire contient 220 litres. Maman fait couler 80 litres d'eau chaude puis 125 litres d'eau froide. **La baignoire va-t-elle déborder ?**

$$80 + 125 = 205$$

Non, elle ne débordera pas.

8

Pour son anniversaire, Marie a prévu 12 cakes au chocolat et 8 tartelettes aux pommes pour ses 17 copines. **En aura-t-elle assez ?**

$$12 + 8 = 20$$

Oui, elle en aura assez.

Nom :

Date :

- Reconnaître une situation additive ou soustractive.
- Employer la bonne opération.

Problèmes

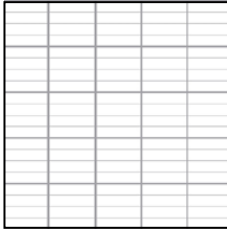
Situations additives et soustractives

Niveau 2



9

Pierre donne 9 billes à Jonas. Il lui en reste 27.

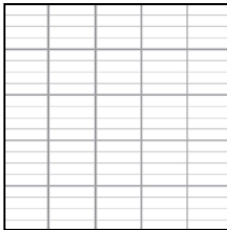
Combien Pierre avait-il de billes avant d'en donner ?

$$27 + 9 = 36$$

Il en avait 36

10


Un voyageur arrive à la gare à 23 heures, après 8 heures de train.

A quelle heure est-il parti ?

$$23 - 8 = 15$$

Il est parti à 15 heures.


11

Lina lit un livre de 84 pages. Lundi elle lit 20 pages. Mardi elle lit 28 pages et mercredi 32 pages. **A-t-elle fini son livre ?**

$$20 + 28 + 32 = 80$$

Non, il lui reste 4 pages à lire.

12

A la récréation, Mona sort son paquet de 30 bonbons. Elle en mange 3 et en donne 2 à Julie et 4 à Martin. **Combien lui en reste-t-il ?**

$$30 - 9 = 21$$

Il lui en reste 21.