

- Savoir lire et écrire en chiffre et en lettres les nombres jusqu'à 999.

nom :

Date :

Exercices

Lire et écrire les nombres → 999

1 Complète le tableau :

.....	889
neuf-cent-quatre-vingt-douze
.....	780
.....	989
six-cent-quatre-vingt-seize
quatre-cent-soixante-treize
.....	698
.....	999

2 Ecris tous les nombres > 500 en utilisant une seule fois chaque étiquette.

neuf

vingt

cent

cinq

□	□	□	□	□	□
---	---	---	---	---	---

3 Ecris tous les nombres compris entre 600 et 900 en utilisant une seule fois chaque étiquette.

neuf

six

cinquante

cent(s)

□	□	□	□	□	□	□	□
---	---	---	---	---	---	---	---

- Savoir lire et écrire en chiffre et en lettres les nombres jusqu'à 999.

Nom :

Date :

Exercices

Lire et écrire les nombres → 999

- 4 Louis a pensé à un nombre. Colorie celui qu'il a choisi.

624

936

652

953

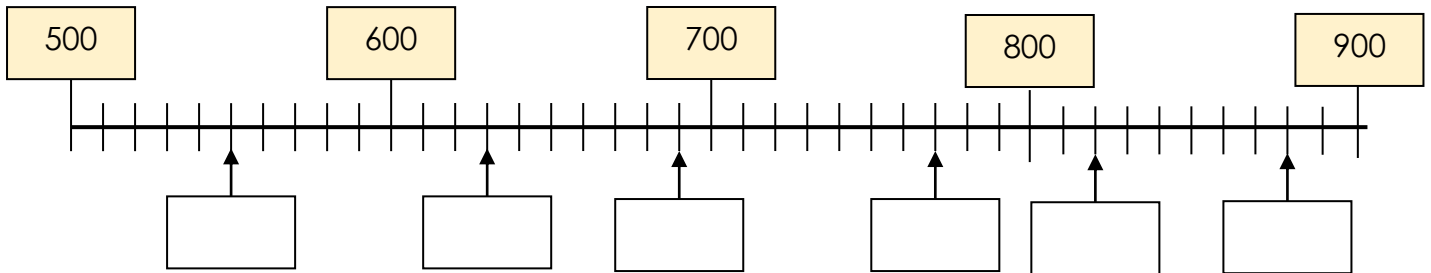
895

869

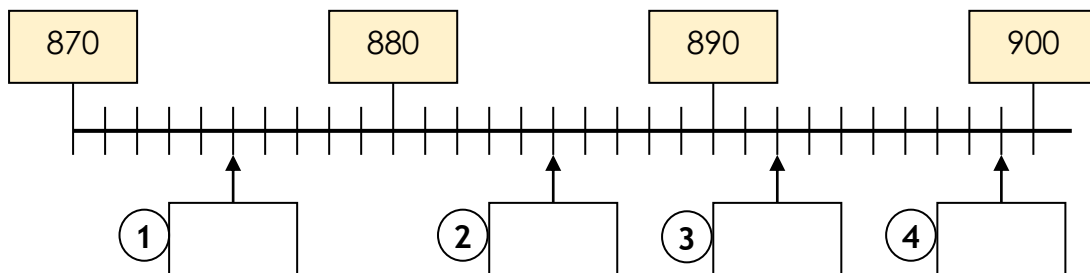


Son chiffre des centaines est plus grand que 6.
Son chiffre des dizaines est plus petit que celui des unités.
Son chiffre des unités est le double de celui des dizaines.

- 5 Complète les étiquettes.



- 6 Complète les étiquettes et écris les nombres en lettres.



- ①
- ②
- ③
- ④

- Savoir lire et écrire en chiffre et en lettres les nombres jusqu'à 999.

nom :

Date :

Corrigé

Lire et écrire les nombres → 999

1 Complète le tableau :

huit-cent-quatre-vingt-neuf	889
neuf-cent-quatre-vingt-douze	992
sept-cent-quatre-vingts	780
neuf-cent-quatre-vingt-neuf	989
six-cent-quatre-vingt-seize	696
quatre-cent-soixante-treize	473
six-cent-quatre-vingt-dix-huit	698
neuf-cent-quatre-vingt-dix-neuf	999

2 Ecris tous les nombres > 500 en utilisant une seule fois chaque étiquette.

neuf

vingt

cent

cinq

905

925

920

509

520

529

3 Ecris tous les nombres compris entre 600 et 900 en utilisant une seule fois chaque étiquette.

neuf

six

cinquante

cent(s)

900

906

950

956

600

609

650

659

Nom :

Date :

- Savoir lire et écrire en chiffre et en lettres les nombres jusqu'à 999.

Corrigé

Lire et écrire les nombres → 999

- 4 Louis a pensé à un nombre. Colorie celui qu'il a choisi.

624

936

652

953

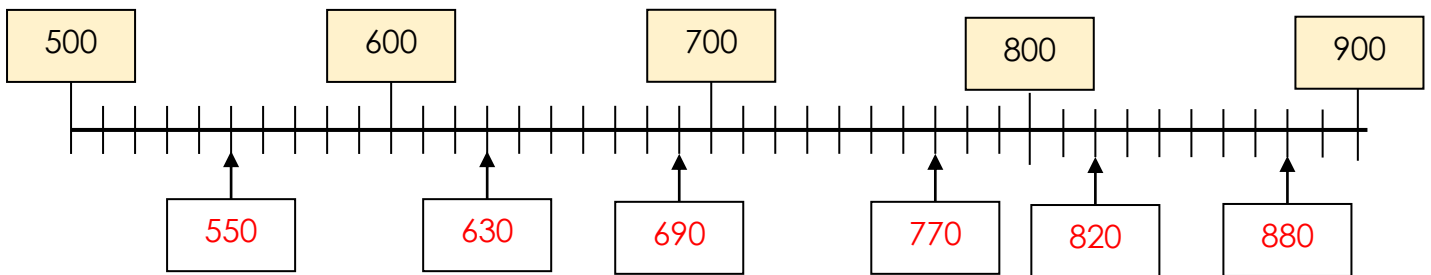
895

869

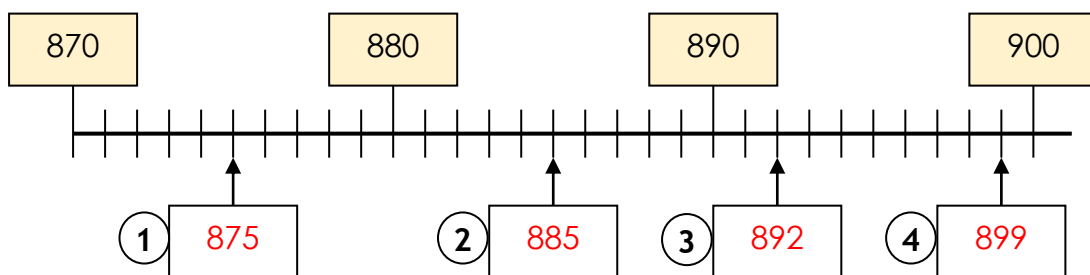


Son chiffre des centaines est plus grand que 6.
Son chiffre des dizaines est plus petit que celui des unités.
Son chiffre des unités est le double de celui des dizaines.

- 5 Complète les étiquettes.



- 6 Complète les étiquettes et écris les nombres en lettres.



- 1 huit-cent-soixante-quinze
- 2 huit-cent-quatre-vingt-cinq
- 3 huit-cent-quatre-vingt-douze
- 4 huit-cent-quatre-vingt-dix-neuf