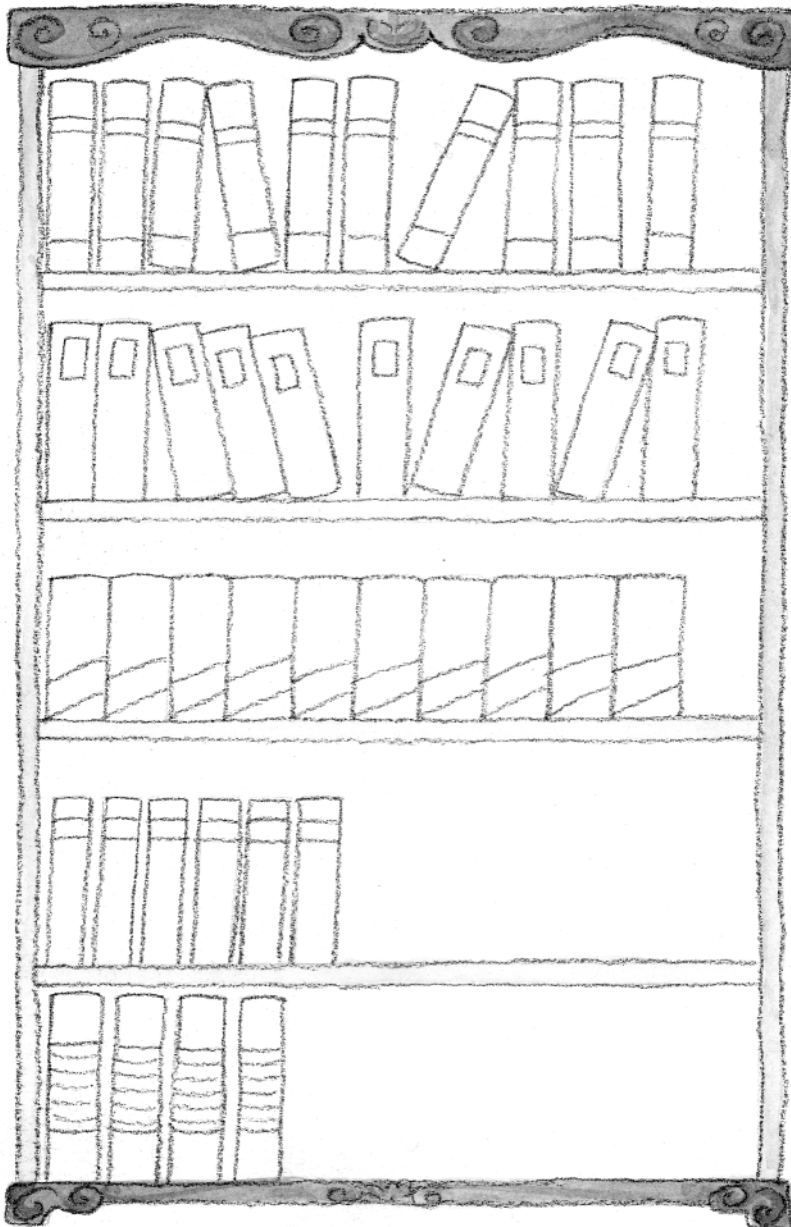


Découvrir

Une bibliothèque bien rangée

a On place 10 livres sur chaque rangée. **Dessine** les livres qui manquent.



10	dix
----	-----

___ dizaine

$$10 + 10 = 20$$

20	vingt
----	-------

___ dizaines

$$10 + 10 + 10 = 30$$

30	trente
----	--------

___ dizaines

$$10 + 10 + 10 + 10 = 40$$

40	quarante
----	----------

___ dizaines

$$10 + 10 + 10 + 10 + 10 = 50$$

50	cinquante
----	-----------

___ dizaines

b Complète, pour chaque rangée, le nombre de livres obtenu.



S'entraîner

1 Compte de dizaine en dizaine :


10 20 30 _____

2 Martin est collectionneur. **Entoure** les groupes de 10 objets **puis complète** les tableaux et les phrases.



d	u

Martin a _____ figurines.




d	u

Martin a _____ petites voitures.

3 **Observe** le tableau **puis dessine** les balles dans les filets. Complète la phrase.

d	u
3	0

Il y a _____ balles.



| Former des dizaines