

- Savoir reconnaître et construire des alignements.
- Savoir tracer une droite passant par plusieurs points.


Nom : .....

Date : .....


## Exercices

## Points alignés

- 1 Trace la droite passant par les 3 points. Que peux-tu dire de ces 3 points ?



- 2 Cherche tous les points alignés en traçant les droites qui passent par ces points.



- Savoir reconnaître et construire des alignements.
- Savoir tracer une droite passant par plusieurs points.

Nom : .....

Date : .....

## Exercices

## Points alignés

- 3 Place le point B pour que les points A, B et C soient alignés.

A  
XC  
X

- 4 Trace 3 points C, D et E alignés.

- Savoir reconnaître et construire des alignements.
- Savoir tracer une droite passant par plusieurs points.

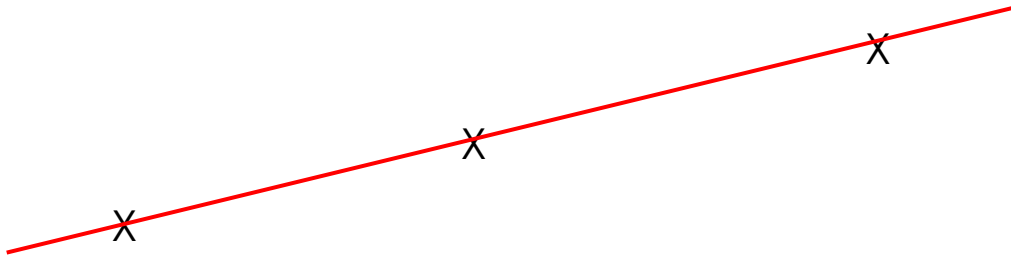
Nom : .....

Date : .....

Corrigé

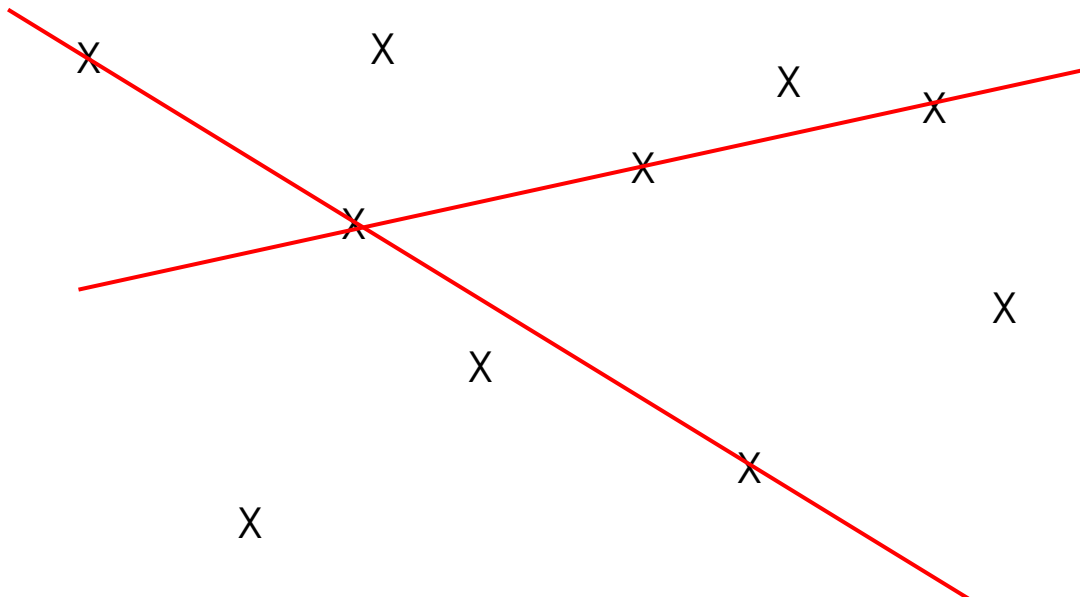
## Points alignés

- 1 Trace la droite passant par les 3 points. Que peux-tu dire de ces 3 points ?



Les 3 points sont alignés

- 2 Cherche tous les points alignés en traçant les droites qui passent par ces points.



- Savoir reconnaître et construire des alignements.
- Savoir tracer une droite passant par plusieurs points.

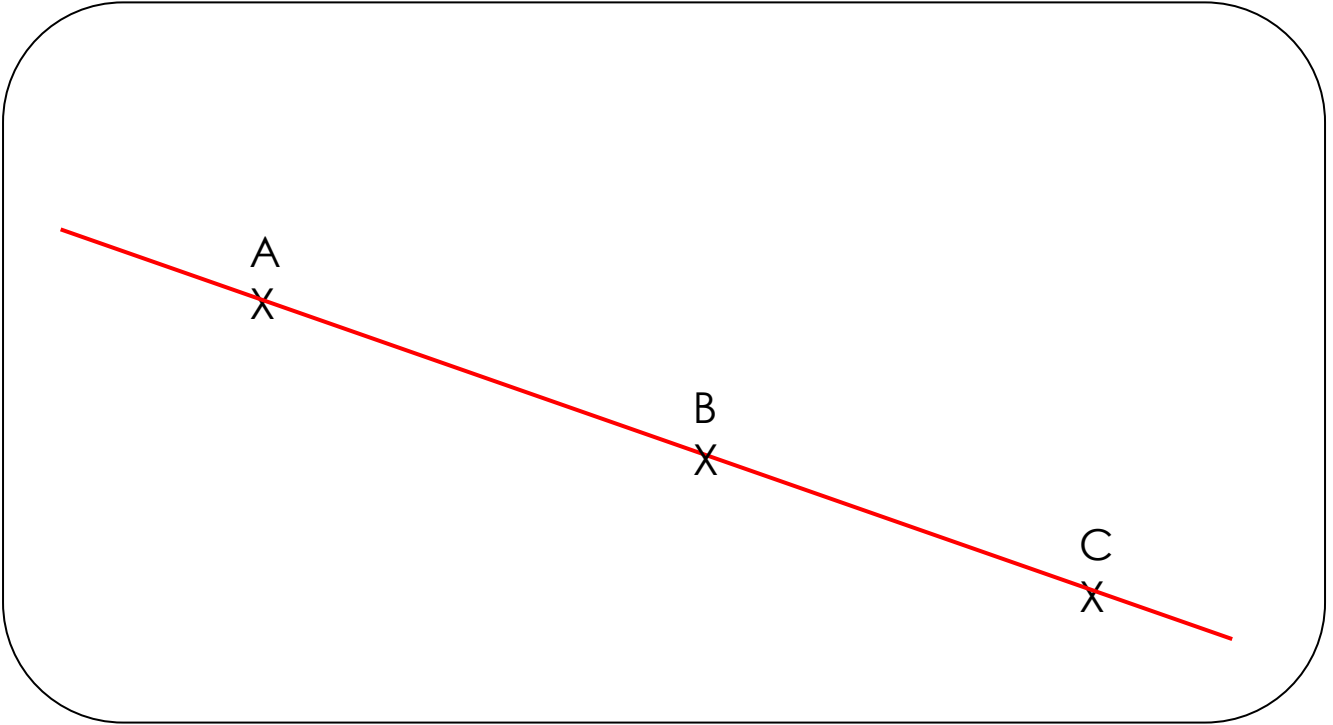
Nom : .....

Date : .....

Corrigé

## Points alignés

- 3 Place le point B pour que les points A, B et C soient alignés.



- 4 Trace 3 points C, D et E alignés.

