

Prénom : .....

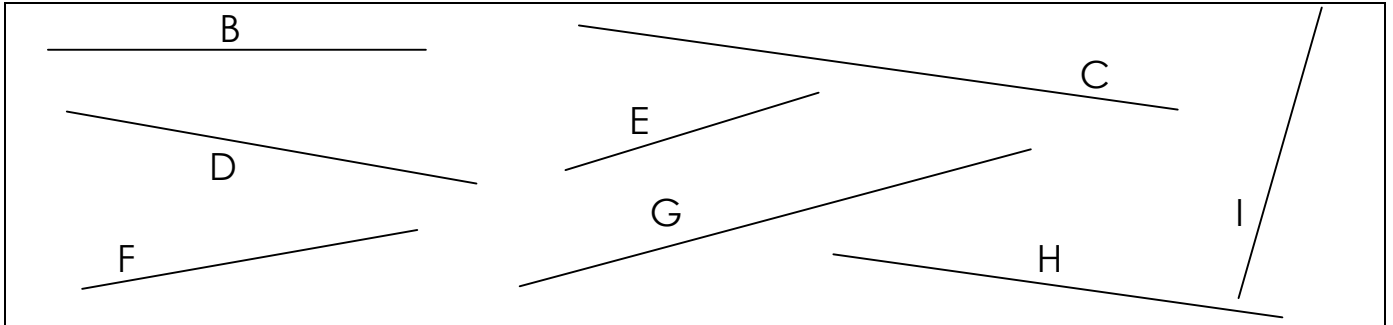
Date : .....



# MESURE DE LONGUEURS (02)

Comparaison et report de longueurs

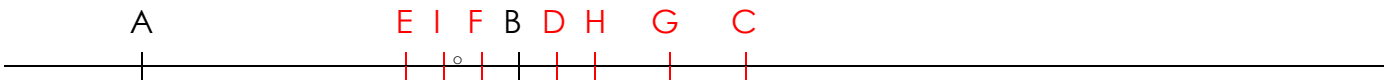
1./ Voici différents segments :



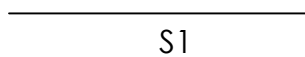
- En utilisant le compas, classe dans l'ordre croissant ces segments en fonction de leur longueur :

**E / I / F / B / D / H / G / C**


- Reporte à l'aide du compas ces segments sur la droite ci dessous en utilisant le même point A comme extrémité :



2./ Voici un segment S1 :



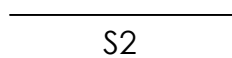
- A partir du point A reporte 3 fois la longueur du segment S1 sur la droite :




- Sur quel point arrive-t-on ?



3./ Voici un segment S2 :



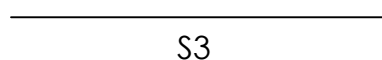
- A partir du point A2 reporte 5 fois la longueur du segment S2 sur la droite :



- Sur quel point arrive-t-on ?



4./ Voici un segment S3 :



- A partir du point A3 reporte 3 fois la longueur du segment S3 sur la droite :



- Sur quel point arrive-t-on ?

